

CONCURSUL ȘCOLAR NAȚIONAL DE GEOGRAFIE
„TERRA – MICA OLIMPIADĂ DE GEOGRAFIE”
ETAPA JUDEȚEANĂ/A SECTOARELOR MUNICIPIULUI BUCUREȘTI

Ediția a XIII-a, 28 martie 2026

CLASA a VII-a

*Eu sunt **Terra** și ți-l prezint pe prietenul meu, **Rokid**. Ne bucurăm că ai venit la acest concurs. Tu ești un mare geograf și, astăzi, ai ocazia să demonstrezi cât de bine mă cunoști. Ai la dispoziție 90 de minute să rezolvi testul pe care ți l-am pregătit. Răspunde corect la toate cerințele și vei câștiga **90 de puncte**. Împreună cu cele **10 puncte** pe care ți le oferim în dar, drept mulțumire că ai venit aici, vei avea în total **100 de puncte**.*

Succes!



Subiectul I

(20 puncte)

Scrieți, pe foaia de concurs, litera corespunzătoare variantei corecte de răspuns, pentru fiecare dintre afirmațiile de mai jos:

1. Ghețarul Fedcenko, considerat cel mai lung din lume, se află în:

a. Munții Himalaya	b. Munții Karakorum	c. Podișul Pamir	d. Podișul Tibet
--------------------	---------------------	------------------	------------------
2. Vulcanul Ararat se află în statul:

a. Filipine	b. Japonia	c. Indonezia	d. Turcia
-------------	------------	--------------	-----------
3. Numeroase gheizere se găsesc în Peninsula:

a. India	b. Kamceatka	c. Malacca	d. Taimîr
----------	--------------	------------	-----------
4. Fluviile Tigrul și Eufratul formează o deltă comună la vărsarea în Golful:

a. Aden	b. Bengal	c. Oman	d. Persic
---------	-----------	---------	-----------
5. Cel mai recent stat apărut pe harta politică a Asiei este:

a. Bahrain	b. Brunei	c. Republica Kârgâză	d. Timorul de Est
------------	-----------	----------------------	-------------------
6. Insulele Zanzibar aparțin statului:

a. Tanzania	b. Tunisia	c. Uganda	d. Zambia
-------------	------------	-----------	-----------
7. Cea mai mare deltă interioară din lume a fost formată în nord-vestul Deșertului Kalahari de râul:

a. Congo	b. Okavango	c. Orange	d. Senegal
----------	-------------	-----------	------------
8. Pădurile de mangrove ocupă suprafețe extinse în Insulele:

a. Filipine	b. Kurile	c. Noua Siberie	d. Sahalin
-------------	-----------	-----------------	------------
9. Marele Rift African se întinde de la Marea Roșie (Triunghiul Afar) până la cursul inferior al fluviului:

a. Niger	b. Nil	c. Orange	d. Zambezi
----------	--------	-----------	------------
10. Așezarea rurală de tip kraal este specifică în regiunea:

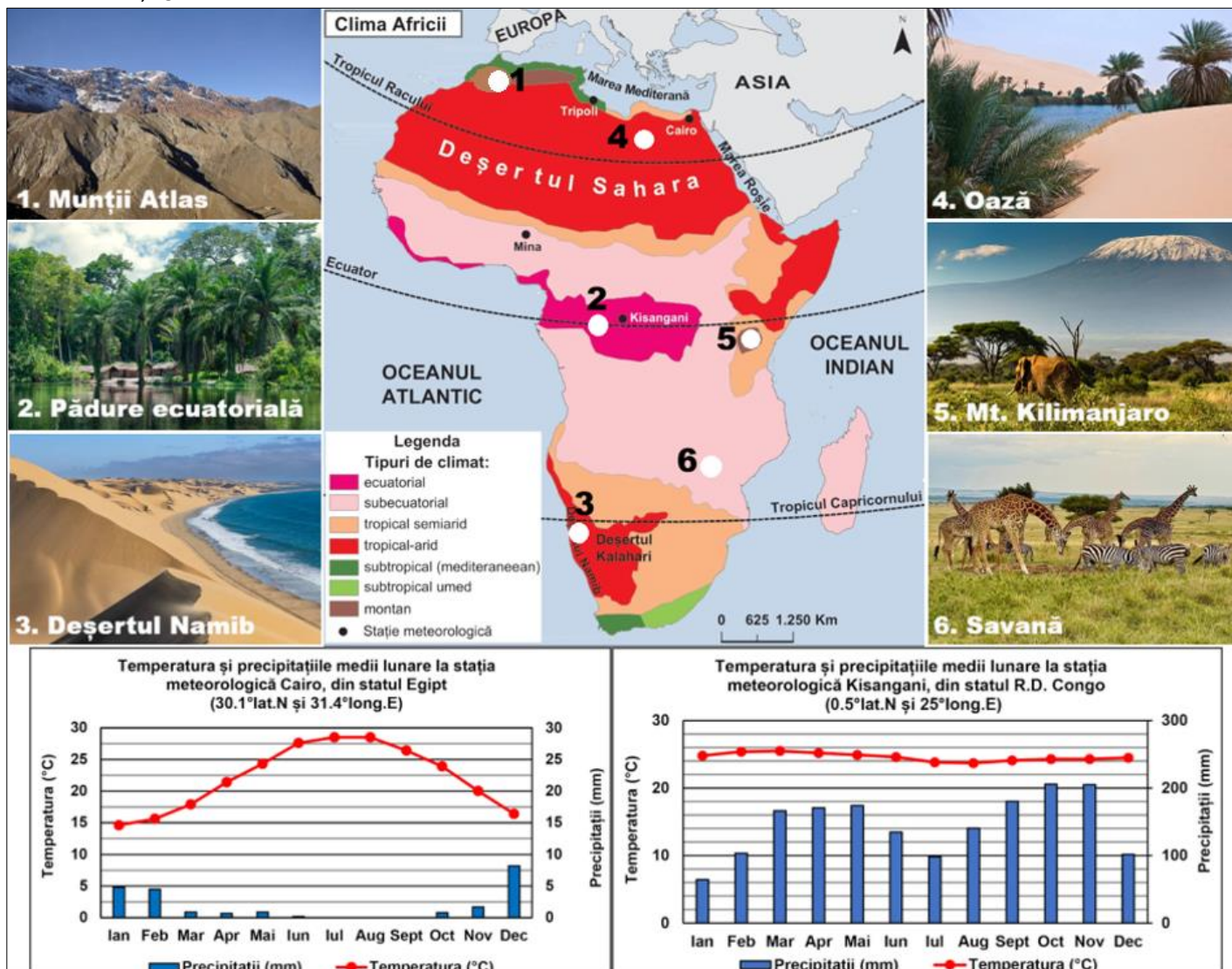
a. Africa de Est	b. Africa de Nord	c. Africa de Sud	d. Africa de Vest
------------------	-------------------	------------------	-------------------

20 puncte

Subiectul al II-lea

(26 puncte)

Analizați harta de mai jos, pe care sunt marcate cu numere de la 1 la 6 puncte de observare, imaginile în care sunt prezentate aspecte geografice din regiunea fiecărui punct de observare, precum și graficele climatice alăturate.



Sursa: <https://manuale.edu.ro/>

A. Precizați:

- tipul climatic specific Munților Atlas, precum și un tip de relief dezvoltat la cele mai mari altitudini;
- două consecințe ale elementelor climatice reprezentate grafic la stația meteorologică Kisangani asupra vegetației din regiunea în care se află punctul de observare marcat cu numărul 2;
- un factor care determină prezența zăpezilor permanente pe vârful Muntelui Kilimanjaro;
- valoarea amplitudinii termice medii anuale înregistrate la fiecare dintre cele două stații meteorologice reprezentate grafic;
- tipul climatic în care se dezvoltă vegetația de savană și două caracteristici ale acestei zone biogeografice.

20 puncte

B. Explicați:

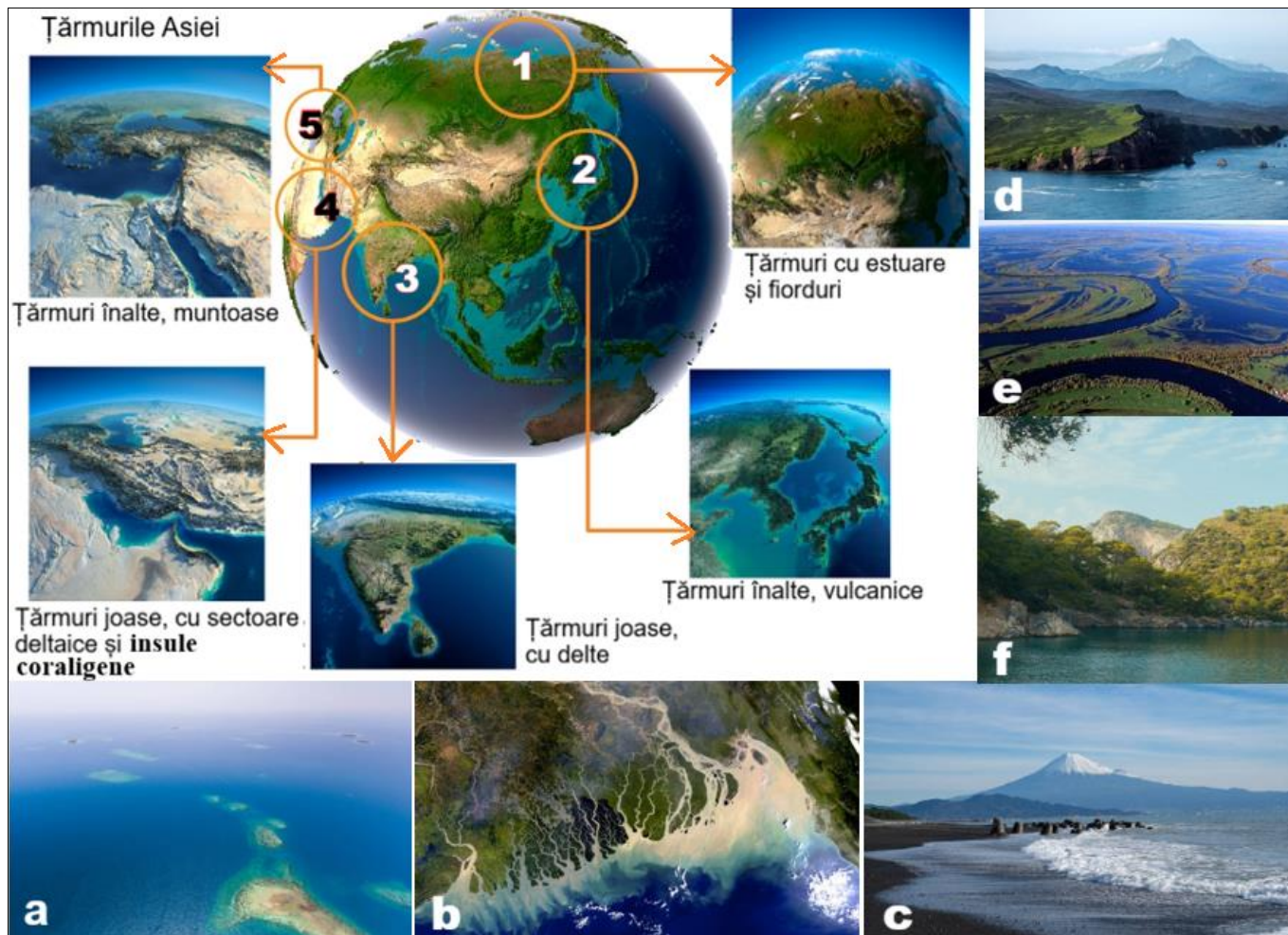
- prezența Deșertului Namib pe țărmul Oceanului Atlantic;
- prezența lacurilor în unele oaze din Deșertul Sahara;
- diferența dintre cantitatea de precipitații înregistrată în perioada iunie-septembrie la Cairo (Egipt) și cantitatea de precipitații înregistrată, în aceeași perioadă, la Kisangani (R.D. Congo).

6 puncte

Subiectul al III-lea

(15 puncte)

Analizați imaginile de mai jos, în care sunt marcate cu numere de la **1** la **5** regiuni din Asia cu diferite tipuri de țărmuri, iar cu litere de la **a** la **f** aspecte geografice asociate acestor tipuri de țărmuri.



Sursa: prelucrare după <https://manuale.edu.ro/>

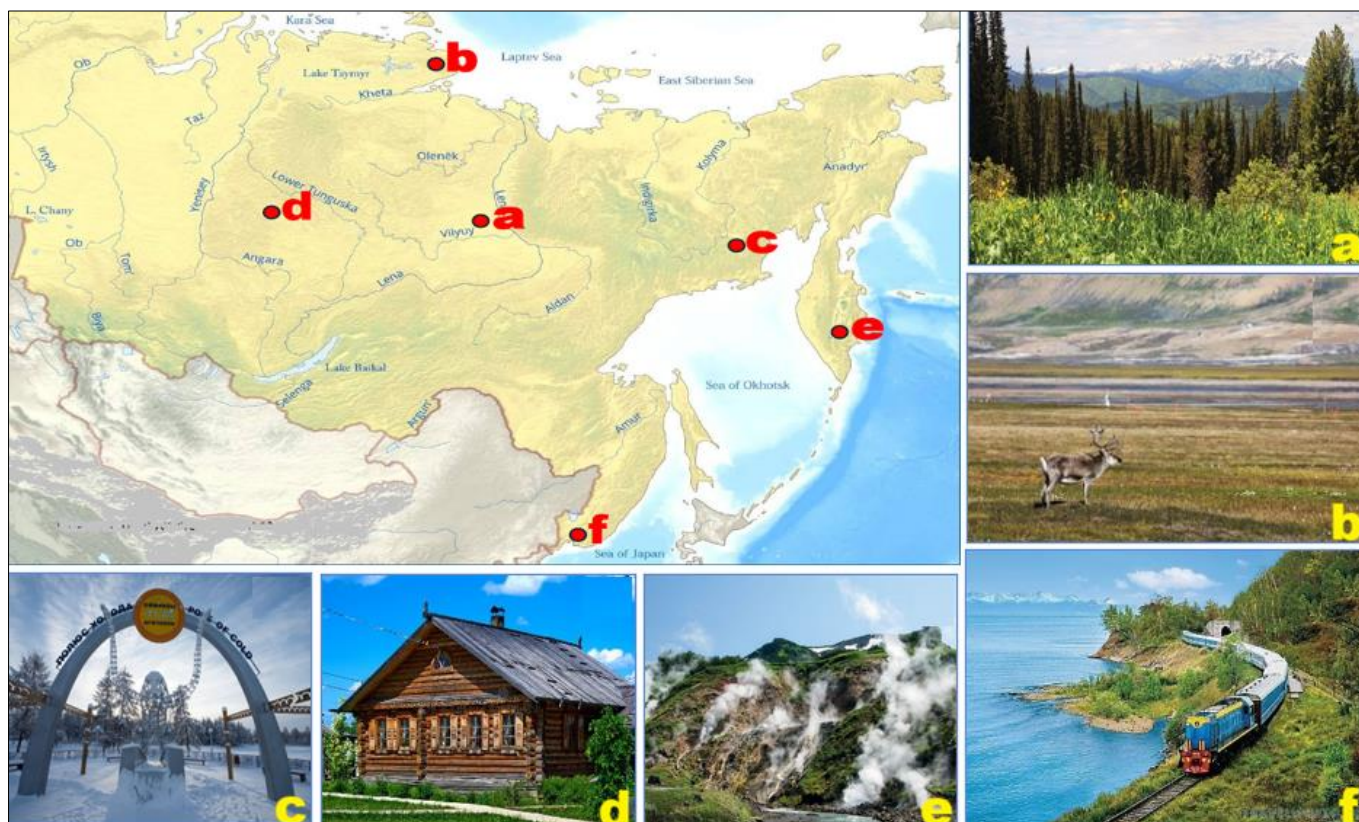
Precizați:

1. un factor care a contribuit la formarea țărmurilor înalte, crestate, cu fiorduri, prezentate în imaginea marcată cu litera **d** și întâlnite în regiunea marcată cu numărul **1**;
2. numele fluviului care formează cel mai lung estuar din Asia, prezentat în imaginea marcată cu litera **e**;
3. numele fluviilor care au contribuit la formarea tipului de țărm prezentat în imaginea **b**, precum și numărul cu care este marcată regiunea în care acesta este specific;
4. denumirea golfului din regiunea marcată cu numărul **3**;
5. denumirea peninsulei situate între Marea Neagră și Marea Mediterană, în care sunt specifice țărmuri înalte, muntoase, prezentate în imaginea **f**, precum și numărul cu care este marcată regiunea în care se află;
6. factorul care a contribuit la formarea insulelor din regiunea marcată cu numărul **4** și litera cu care este marcată imaginea în care este prezentat acest tip de insule;
7. denumirea a două golfuluri și al unei strâmțori din regiunea marcată cu numărul **4**;
8. un factor care a determinat prezența vulcanilor activi în regiunea marcată cu numărul **2**, precum și numele unui cunoscut vulcan din această regiune, prezentat în imaginea marcată cu litera **c**.

Subiectul al IV-lea

(16 puncte)

Analizați harta de mai jos, pe care este reprezentată o regiune geografică din Asia, precum și imaginile marcate cu litere de la **a** la **f**, care prezintă aspecte geografice din arealele marcate, pe hartă, cu litere de la **a** la **f**.



Sursa: <https://manuale.edu.ro/>

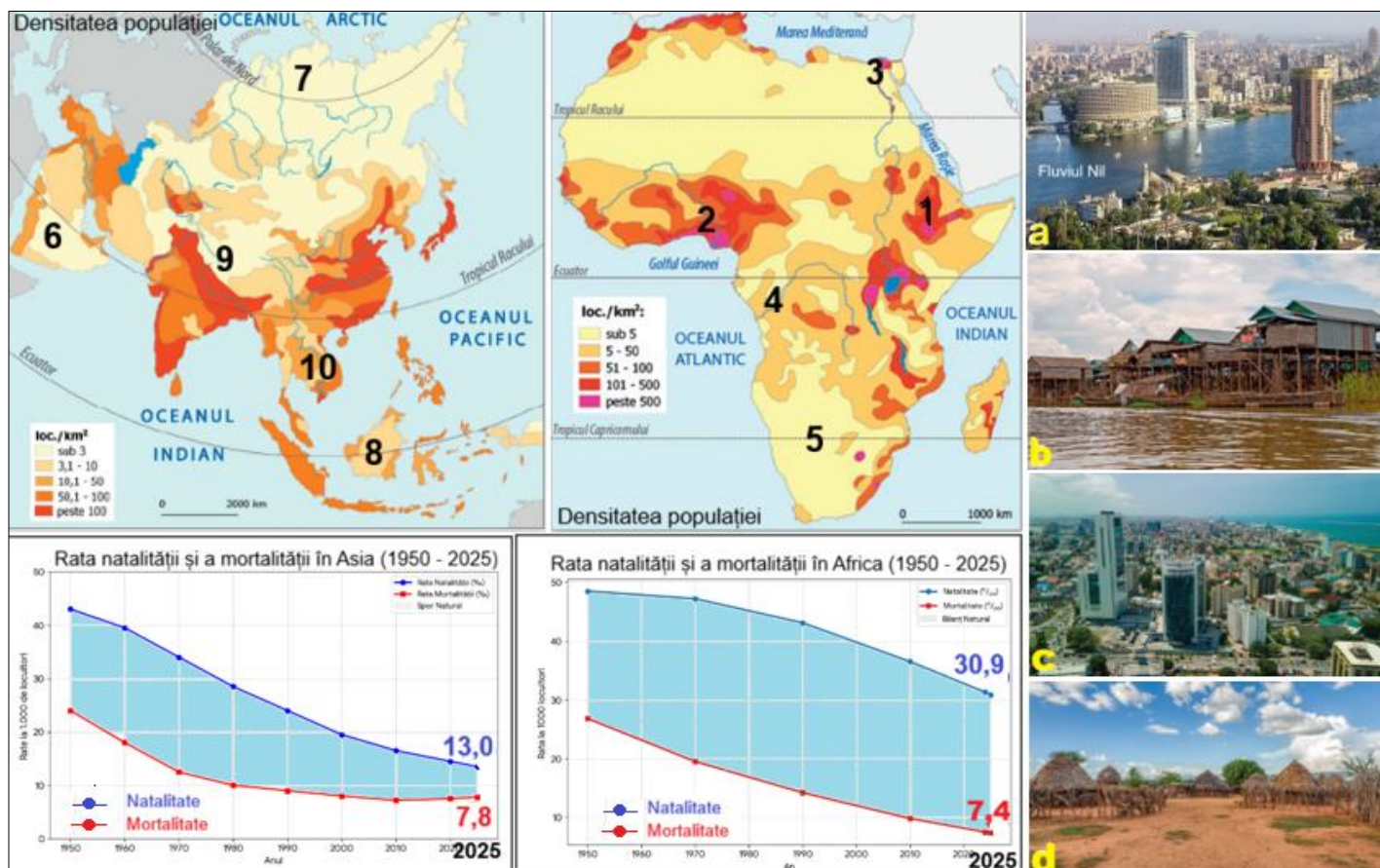
Precizați:

1. denumirea zonelor biogeografice prezentate în imaginile marcate cu literele **a** și **b**;
2. denumirea localității considerate polul frigului în emisfera nordică, prezentată în imaginea marcată cu litera **c**;
3. tipul de locuință prezentată în imaginea marcată cu litera **d**;
4. două grupuri etnice indigene și două activități tradiționale practicate în nordul regiunii geografice reprezentate pe hartă;
5. doi factori naturali care determină suprafețele mari cu terenuri agricole neproductive în regiunea geografică reprezentată pe hartă;
6. resursa energetică regenerabilă valorificată în imaginea marcată cu litera **e**;
7. două activități economice legate de valorificarea apelor curgătoare din regiunea geografică reprezentată pe hartă;
8. denumirea celei mai lungi căi ferate din lume, prezentate în imaginea marcată cu litera **f**, precum și două unități de relief pe care le traversează în regiunea geografică reprezentată pe hartă.

Subiectul al V-lea

(13 puncte)

Analizați harta densității populației pentru Asia și Africa, pe care sunt marcate, cu numere de la 1 la 10 regiuni geografice, graficele care prezintă rata natalității și a mortalității în Asia și Africa (1950–2025), precum și imaginile marcate cu litere de la a la d, care prezintă aspecte specifice așezărilor omenești din cele două continente.



Sursa: <https://manuale.edu.ro/>

Precizați:

- un factor natural care determină densitatea redusă a populației în regiunile marcate cu numerele 5 și 6;
- denumirea orașului prezentat în imaginea a, situat în regiunea marcată cu numărul 3;
- valoarea bilanțului natural înregistrat în fiecare dintre cele două continente în anul 2025;
- litera cu care este marcată imaginea în care sunt prezentate locuințele construite pe piloni, deasupra apei, specifice regiunii marcate cu numărul 10, precum și denumirea acestor așezări;
- numele celui mai mare oraș din Nigeria, prezentat în imaginea c, precum și numărul cu care este marcată regiunea în care este situat;
- un factor care determină densitatea redusă a populației în regiunile marcate cu numerele 4 și 8;
- numele podișului din regiunea marcată cu numărul 1, în care se află satul de păstori prezentat în imaginea marcată cu litera d;
- două exemple de state din regiunea marcată cu numărul 9, în care densitatea populației are valori foarte reduse;
- tipul climatic care determină densitatea redusă a populației din regiunea marcată cu numărul 7.

Felicitări, ai terminat testul.
Sunt convins că te-ai străduit să
rezolvi toate cerințele și ne vom
reîntâlni la etapa națională.
Te aștept cu drag!

